

[第 4 回目] 力学の基本法則

≪今日の授業の目標≫

☆力学の基本法則 (物体の運動が従う基本法則) がわかる

- ・ 第 1 法則 (慣性の法則)

$$\vec{F} = 0 \text{ ならば, 静止し続ける か 等速直線運動} \quad (\vec{v} = 0 \text{ または } \vec{v} = \text{一定})$$

- ・ 第 2 法則 (運動の法則) = 運動方程式

$$m\vec{a} = \vec{F}, \quad (\text{慣性系で成り立つ}) \quad \left(m \frac{d\vec{v}}{dt} = \vec{F}, \quad m \frac{d^2\vec{r}}{dt^2} = \vec{F} \right)$$

- ・ 第 3 法則 (作用・反作用の法則)

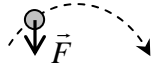
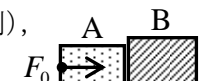
$$\vec{F}_{B \rightarrow A} = -\vec{F}_{A \rightarrow B} \quad \text{学習到達目標 (2) 力学の 3 つの基本法則がわかる}$$

◎ 力の単位 [N] ニュートン = [kg・m/s²] (MKS 単位系という国際単位系で)

次回予定 [第 5 回目] 力の諸法則 1 (教科書 25~32 ページまで)

レポート問題 第 4 回目 (右側の半分の解答用紙を切り取って提出しなさい)

数値で計算する問題は、答えにも必ず単位をつけること!

- ☆... 問 1 本日の授業で学んだことで、重要と思うことをまとめよ。(式も用いてよいが、文章で)
- ☆... 問 2 本日の授業で学んだ内容を用いた問題を自分で 1 問作り、それを答えよ。(裏・別紙解答可)
- A... 問 3 MKS 単位系で、①長さ、②質量、③時間、④速度、⑤加速度、⑥力の単位を書け。
問 4 次の各問いに答えよ。
- A... ① 力学の 3 つの基本法則の名称を書き、式または文章で説明せよ。
- B・☆ ② $m = 3.0$ [kg] の物体に、 $F = 6.0$ [N] の力を作用させたときに生じる加速度 a を数値で求めよ。
- B... ③ 2.0 [kg] の物体に 8.0 [m/s²] の加速度が生じた。作用させた力の大きさ F を求めよ。
- B... ④ 右図の破線の軌道を描いて物体が運動した。時刻 t に、力 \vec{F} が物体に作用していた。このときの物体の速度 \vec{v} と加速度 \vec{a} の向きを図に示せ。

- B... 問 5 物体の運動は、力学の 3 つの基本法則だけから、求めることは可能か、不可能か。もし不可能ならば、それ以外に何が必要か。
問 6 次の各問いに答えよ。
- B... ① 時刻 $t = 0$ のとき、物体 P の速さが 20 [m/s] であった。物体 P にその後 ($t > 0$) 一切の力が作用しない場合、物体 P の運動はどうなるか答えよ。もっとも適切なものを選び。
ア. すぐに停止する。イ. 徐々に減速して停止する。ウ. 一定の加速度で加速し続ける。エ. 一定の速度で運動する。
- C... ② 停止している自動車が急発進した。発進時にドライバーに作用する力はどの向きか。
- B・☆ 問 7 東向きに走行している 1500 [kg] の自動車がある。時刻 $t = 0$ での速さは $v_0 = 15$ [m/s] であった。時刻 $t = 0$ にアクセルを踏むと、自動車には 0 [s] と 10 [s] のあいだに東向きに 4500 [N] の一定の力が作用した。東向きを正の向きとする。
① 生じた加速度 \vec{a} の大きさ a と向きを求めよ。② 時刻 $t = 10$ [s] での速度 v_1 を数値で求めよ。
- 問 8 図のように、滑らかな (摩擦がない) 水平な床の上に質量 $m_A = 2.0$ [kg] の物体 A と質量 $m_B = 3.0$ [kg] の物体 B を接触させて置いた。物体 A を水平右向きに一定の大きさ F_0 の力で押し続けると、物体 A と B には大きさ $a = 6.0$ [m/s²] の加速度が生じた。
- B... ① 物体 B についての運動方程式から、A から B に作用する力の大きさ T_B を数値で求めよ。
- B... ② B から A に作用する力の大きさ T_A を数値で求めよ。(作用反作用の法則),
- C... ③ 物体 A についての運動方程式を立て、 F_0 を数値で求めよ。


テスト直しについて: 小テストの不正解, 減点, 未回答の答えを, レポートの解答用紙の裏 (別紙も可) に直して提出すれば加点する。返却した小テストに書いて提出した場合は加点も再返却もしない。

解答用紙 (授業 曜 限) 学籍番号 _____ 氏名 _____

数値で計算する問題は、答えにも必ず単位をつける！指示がない限り MKS 単位系で答えること！

☆… 問 1

☆… 問 2 問題：

答：

問 3	物理量	①長さ	②質量	③時間	④速度	⑤加速度	⑥力
	単位						

問 4 ① の法則：文章か

の法則：式 =

の法則：式 =

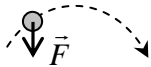
☆… ② 計算

答え $a =$ []

③ 計算

答え $F =$ []

④



問 5 物体の運動は、力学の 3 つの基本法則だけから求めることは 。

それ以外に が必要である。

問 6 ① a. すぐに停止する。

b. 徐々に減速して停止する。

c. 一定の加速度で加速し続ける。

d. 一定の速度で運動する。

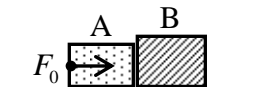
② (どちらか選べ)

☆… 問 7 ①

② $v_1 =$ []

問 8 ① $\therefore T_B =$ []

② $\therefore T_A =$ []



③ $\therefore F_0 =$ []

☆このレポートをやるのに _____ 時間 _____ 分,

それ以外に力学の予習復習を _____ 時間 _____ 分した。