

[第12回目] 位置エネルギー (Potential Energy)

《今日の授業の目標》 「仕事をする可能性」としてのエネルギー = 「位置エネルギー」

◎ 重力 $\vec{F} = m\vec{g}$ の位置エネルギー

$$U_{重}(y) = mgy$$
 : 基準点 $y = 0$ から高さ y まで持ち上げるあいだに、重力に逆らって働く外力 \vec{f} ($= -m\vec{g}$) がする仕事

$$\left[U(y) = W_{外力,0 \rightarrow y} = \int_0^y (-m\vec{g}) \cdot d\vec{s} = \int_0^y m\vec{g} \cdot d\vec{y} = \int_y^0 (-m\vec{g}) \cdot d\vec{y} = W_{重力,y \rightarrow 0} \right]$$

◎ 弾性力 $F_x = -kx$ の位置エネルギー

$$U_{弾}(x) = \frac{1}{2}kx^2$$

$$\left[U(x_A) = W_{外力,0 \rightarrow x_A} = \int_0^{x_A} (-F_x) \cdot dx = \int_0^{x_A} kx \cdot dx \right]$$

○ 万有引力 $f(r) = -G \frac{mM}{r^2}$ の位置エネルギー

$$U_{万有}(r) = -G \frac{mM}{r}$$

$$\left[\frac{dF(x)}{dx} = f(x) \text{ のとき, 定積分: } \int_a^b f(x) dx = F(b) - F(a) \right]$$

※基準点 = 無限遠 (万有引力が無視できるくらいの十分遠方)

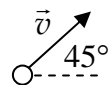
学習到達目標 (7) 力学的エネルギー保存則の意味がわかる。

次回予定 [第13回目] 力学的エネルギー保存則 (教科書 78~85 ページまで)

レポート問題 第12回目 (右側の半分の解答用紙を切り取って提出しなさい)

数値で計算する問題は、答えにも必ず単位をつける! MKS 単位系で答えること!

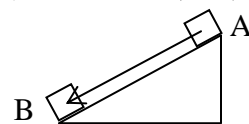
【期末】問1 ① 質量 $m = 50$ [g] のボールが、水平からの 45° の角度をなして速さ $v = 216$ [km/h] で飛んでいる。ボールの運動エネルギー K を数値で求めよ。



B... ② 質量 M [kg] の物体が、傾斜角 α の粗い斜面を s [m] 滑り降りた。動摩擦係数を μ' とし、重力、摩擦力、垂直抗力がしたそれぞれの仕事 $W_{重}$, $W_{ま}$, $W_{垂}$ を式で表せ。また、滑り降りる間に、速さが v_1 から v_2 になった。運動エネルギーと仕事の関係式を書け。

B... 問2 ① 質量 $m = 10$ [kg] の物体を床から持ち上げて、高さ $y = 1.0$ [m] の棚に置いた。この物体の重力の位置エネルギー U を数値で求めよ。床の高さを位置エネルギーの基準とする。

B... ② 水平からの傾斜角 30° の斜面を、質量 $m = 2.0$ [kg] の物体が、斜面に沿って A 点から B 点まで 10 [m] 滑り降りたとき、重力の位置エネルギーの変化 $\Delta U = U_B - U_A$ を数値で求めよ。



【期末】問3 ① ばね定数 $k = 100$ [N/m] のばねに物体を取り付けて $x = 0.50$ [m] だけ伸ばした。このときの弾性力の位置エネルギー $U_{弾}$ を数値で求めよ。

B... ② ばね定数 $k = 400$ [N/m] のばねを 0.30 [m] 縮めるために必要な仕事 W はどれだけか。

【期末】問3 ③ ばね定数 $k = 10$ [N/m] のばねに物体を取り付けて、 $x_1 = 0.20$ [m] の位置から $x_2 = 0.40$ [m] の位置まで伸ばした。弾性力の位置エネルギーの変化 ΔU を数値で求めよ。

B... 問4 教科書 77 ページの演習問題の問題 1 を答えよ。

=== おすすめの本 ===

『科学は誰のものか～社会の側から問い直す』 平川秀幸著 (NHK 出版生活人新書)

『携帯電磁波の人体影響』 矢部武著 (集英社新書)

切を必ず守ること

解答用紙 (授業 曜 限) 学籍番号 _____ 氏名 _____

数値で計算する問題は、答えにも必ず単位をつける！指示がない限り MKS 単位系で答えること！

問 1

① 質量 $m = 50 \text{ [g]} =$ _____ [kg] , 速度 $v = 216 \text{ [km/h]} = 216 \times \frac{\text{[m]}}{\text{[s]}} =$ _____ [m/s]

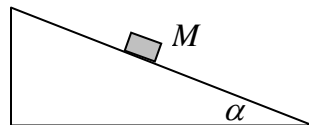
運動エネルギー $K =$ _____ []

② $W_{\text{重}} =$

$W_{\text{ま}} =$

$W_{\text{垂}} =$

運動エネルギーと仕事の関係式は,



$$f_{\text{ま}} = \mu' f_N,$$

問 2 ① $U =$ _____ []

② $\Delta U = U_B - U_A =$ _____ []

問 3 ① $U =$ _____ []

② $W =$ _____ []

③ $\Delta U = U(x_2) - U(x_1) =$ _____ []

問 4 (a)

(b) $U_N(r) =$ _____ 単位 :

(c) $U_N(10^{11}) =$ _____ []

(d) $U_e(h) =$ _____ 単位 :

(e) $U_e(2) =$ _____ []

(f) $U_{\text{sp}}(x) =$ _____ 単位 :

(g) $U_{\text{sp}}(-0.8) =$ _____ []

☆このレポートをやるのに _____ 時間 _____ 分,

それ以外に力学 I の予習復習を _____ 時間 _____ 分した。